

MATERIAL DE TRABAJO PEDAGOGICO N° _02

AREA: MATEMATICAS

GRADO: QUINTO

ESTUDIANTE: KAREN PATRICIA SIMANCA CASTILLO


DOCENTE: RUTH ANAYA CARDENAS

1. Completa y colorea:

La centena es un conjunto de _____.




2. Gráfica una centena.



3. Observa este código que deberás usar.

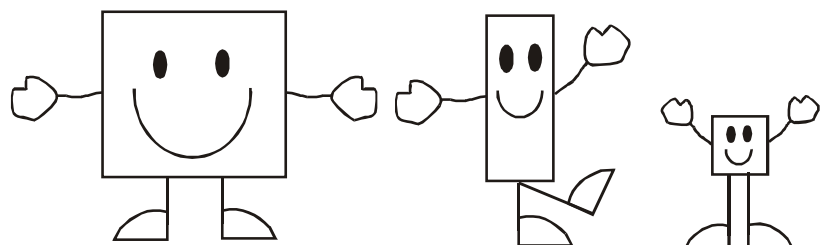
En las centenas



En las decenas

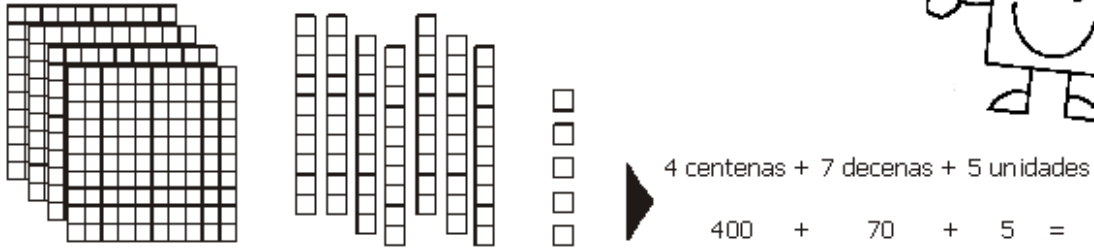



En las unidades

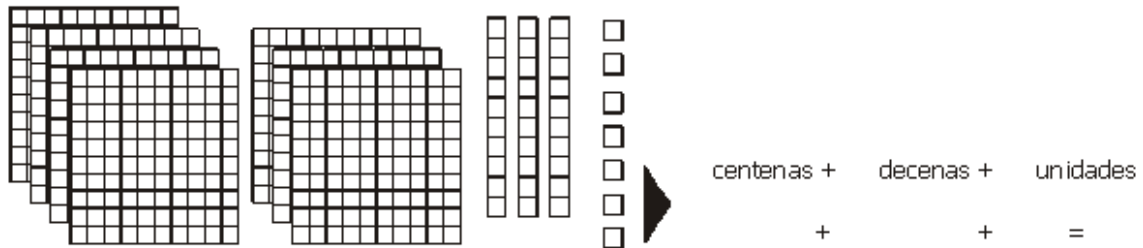


¡A DESCOMPONER!

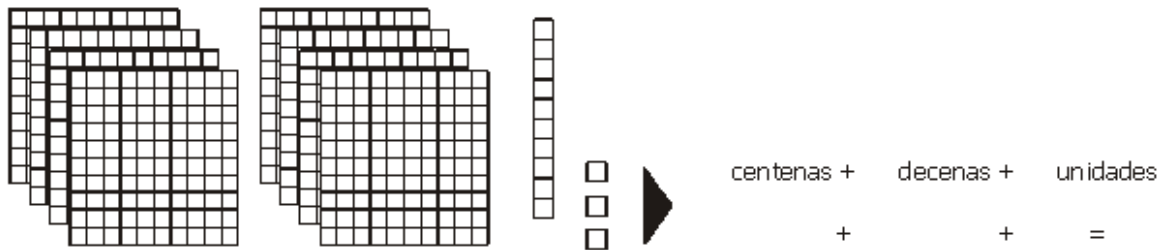
1. Ahora descompón los siguientes números.



475 ► Se lee: Cuatrocientos setenta y cinco.



► Se lee: _____



► Se lee: _____

2. Completa el cuadro.

La descomposición:	Corresponde al número:	Se lee:
5 __ + 7 D + 2 U	572	Quinientos setenta y dos.
9 __ + 5 D + 1 U	_____	_____
8 __ + 0 D + 3 U	_____	_____
6 __ + 6 D + 7 U	_____	_____
7 __ + 2 D + 0 U	_____	_____
_____	354	_____
_____	745	_____
_____	893	_____
_____	_____	Seiscientos sesenta y ocho.
_____	_____	Novecientos cincuenta.



PRACTIQUEMOS LO APRENDIDO...

1. Cuenta.

- De 1 en 1 297 , 298 , _____ , _____ , _____ , _____
- De 5 en 5 807 , 812 , _____ , _____ , _____ , _____
- De 10 en 10 780 , 790 , _____ , _____ , _____ , _____
- De 20 en 20 550 , 570 , _____ , _____ , _____ , _____
- De 30 en 30 500 , 530 , _____ , _____ , _____ , _____
- De 50 en 50 600 , 650 , _____ , _____ , _____ , _____
- De 100 en 100 615 , 715 , _____ , _____ , _____ , _____

2. Completa en los recuadros el número anterior y posterior.



Mi cuerpo tiene 7 centenas menos 1 unidad de piezas.
¿Cuántas piezas tiene mi cuerpo?

Respuesta: _____ piezas.

Comprobación



$$\begin{array}{r} \text{a) } 543 - \\ \underline{239} \end{array}$$



	+

$$\begin{array}{r} \text{b) } 700 - \\ \underline{459} \end{array}$$



	+

$$\begin{array}{r} \text{c) } 567 - \\ \underline{279} \end{array}$$



	+

$$\begin{array}{r} \text{d) } 853 - \\ \underline{376} \end{array}$$



	+

$$\begin{array}{r} \text{e) } 403 - \\ \underline{365} \end{array}$$



	+

- Ref. Bibliografica: www.fichasparaimprimir.com