

# Institución Educativa San Pedro Claver Km 16

Área: Ciencias Naturales      Grado: 5

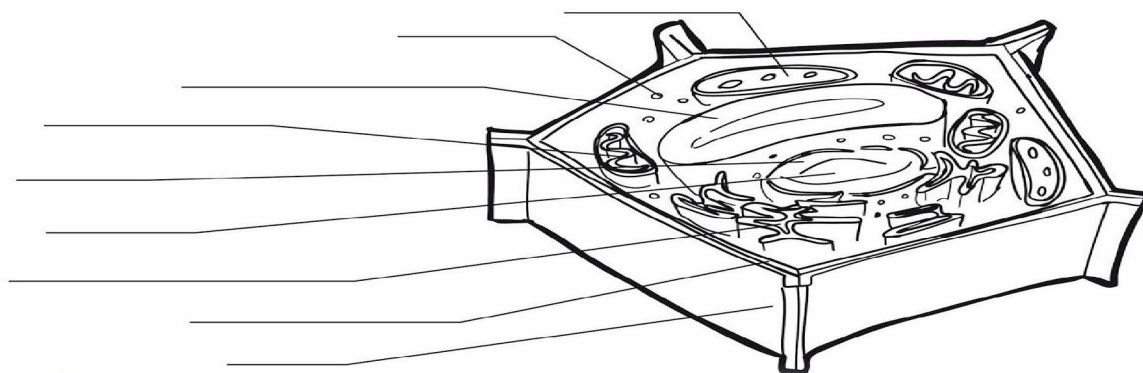
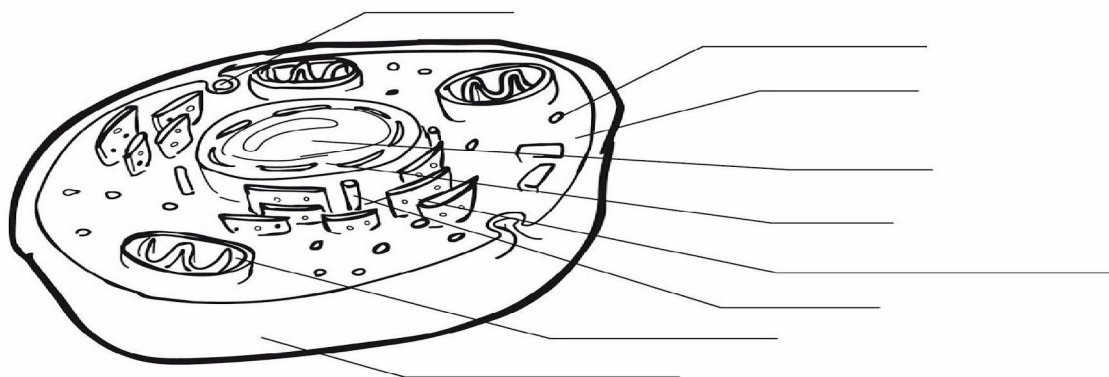
Docente: \_\_\_\_\_ Estudiante: \_\_\_\_\_

Tema: partes de la célula

Objetivo: identificar partes de la célula

Actividad: Escribo en forma correcta las partes de la célula vegetal y animal y coloreo.

## Célula animal y célula vegetal



## Institución Educativa San Pedro Claver Km 16


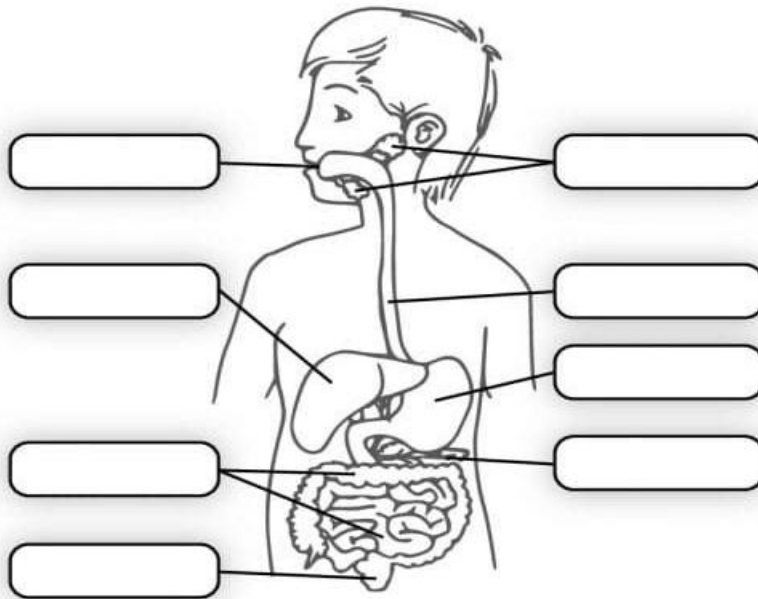
**Área:** Ciencias Naturales      **Grado:** 5

**Docente:** \_\_\_\_\_ **Estudiante:** \_\_\_\_\_

**Tema:** Aparato digestivo del ser humano

**Objetivo:** Reconocer las partes del aparato digestivo

**Actividad:** Indica el nombre de las partes señaladas en este esquema del aparato digestivo, búscalas en la sopa de letras y colorea la imagen.



## Institución Educativa San Pedro Claver Km 16

**Área:** Ciencias Naturales      **Grado:** 5

**Docente:** \_\_\_\_\_ **Estudiante:** \_\_\_\_\_

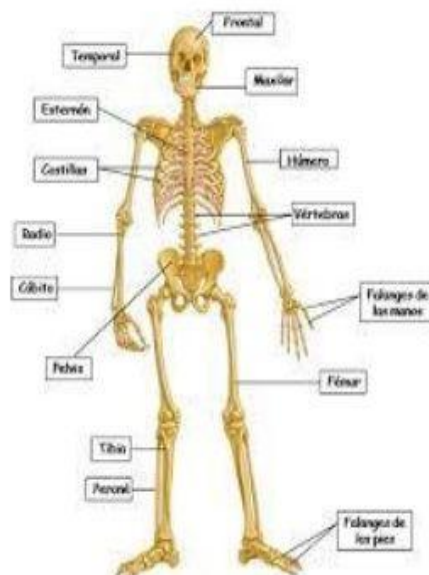
**Tema:** Sistema óseo del ser humano

**Objetivo:** Reconocer las partes del sistema óseo.

**Actividad:** Encuentra las palabras relacionadas en la sopa de letras. Busca el significado de cada una de ellas y determina su ubicación en el esqueleto del sistema óseo del ser humano.

PARTES DEL SISTEMA OSEO	
Y E T A R S O V E R D A D E R A S C O O	APENDICULAR
S F S A L L I T S O C T I B I A N Z D J	AXIAL
L E A N H U M E R O D E S A U S K V D M	CALCANEO
A M D E E O C E Z V L S A L M E J E T Ñ	CARA
I Y N I T D L I U U H D S U R L S R E H	CERVICALES
X K O O O M S L V Q Y X L P A A P T M I	CLAVICULA
A A I M C N O E C A N S A A L C Y E P P	COSTILLAS
H R U O J C E I L A L U F C U I M B O O	CRANEO
R A Q E J N I F D A L C Y S C V A R R F	ESCAPULA
E C S N P S V P S E S C B E I R R A A I	ESFENOIDES
M Ñ I A N O I L I E S A A N D E T S L S	ETMOIDES
O S E R A B M U L T V G N N N C I W E I	FALANGES
V C P C P A R I E T A L E S E O L O S S	FALSAS
F O T A L P O M O W Y L T D P O L A M S	HIPOFISIS
K S E G N A L A F R A D I O A S O Q Ñ S	HUMERO
	ILION
	ISQUION
	LUMBARES
	MARTILLO
	NASALES
	OCCIPITAL

kokolikoko.com



## Referencias bibliográficas

- [https://www.google.com/search?q=taller+poner+las+partes+de+la+celula+vegetal+y+animal&tbm=isch&ved=2ahUKEwiq5t6O-LPoAhUZVjABHTG-AfoQ2-cCegQIABAA&oq=taller+poner+las+partes+de+la+celula+vegetal+y+animal&gs\\_l=img.3...2303.8943..9616...0.0..0.573.6261.2-3j9j4j1.....0....1..gws-wiz-img.XTD2xLXZOSc&ei=9Wt6XuqXMpmswbkPsfyG0A8&bih=667&biw=1366#imgrc=DnaGenPMMhHI0M](https://www.google.com/search?q=taller+poner+las+partes+de+la+celula+vegetal+y+animal&tbm=isch&ved=2ahUKEwiq5t6O-LPoAhUZVjABHTG-AfoQ2-cCegQIABAA&oq=taller+poner+las+partes+de+la+celula+vegetal+y+animal&gs_l=img.3...2303.8943..9616...0.0..0.573.6261.2-3j9j4j1.....0....1..gws-wiz-img.XTD2xLXZOSc&ei=9Wt6XuqXMpmswbkPsfyG0A8&bih=667&biw=1366#imgrc=DnaGenPMMhHI0M)
- <https://www.google.com/search?q=Indica+el+nombre+de+las+partes+se%C3%B1aladas+en+este+esquema+del+aparato+digestivo%2C+para+ello+b%C3%BAscalas+en>
- [https://www.google.com/search?q=encuentra+las+siguientes+partes+del+sistema+oseo+y+la+sopa+de+letras&tbm=isch&ved=2ahUKEwiS2d\\_n-LPoAhVSSzABHYSWCfQQ2-cCegQIABAA&oq=encuentra+las+siguientes+partes+del+sistema+oseo+y+la+sopa+de+letras&gs\\_l=img.3...3384.10955..11242...0.0..2.602.6951.0j1j5j9j1j3.....0....1..gws-wiz-img.UuivSk-Zmvl&ei=sGx6XpLBHdKWwbkPhK2moA8&bih=667&biw=1366#imgrc=eWMMiHcKov3cnoM](https://www.google.com/search?q=encuentra+las+siguientes+partes+del+sistema+oseo+y+la+sopa+de+letras&tbm=isch&ved=2ahUKEwiS2d_n-LPoAhVSSzABHYSWCfQQ2-cCegQIABAA&oq=encuentra+las+siguientes+partes+del+sistema+oseo+y+la+sopa+de+letras&gs_l=img.3...3384.10955..11242...0.0..2.602.6951.0j1j5j9j1j3.....0....1..gws-wiz-img.UuivSk-Zmvl&ei=sGx6XpLBHdKWwbkPhK2moA8&bih=667&biw=1366#imgrc=eWMMiHcKov3cnoM)